

Finish

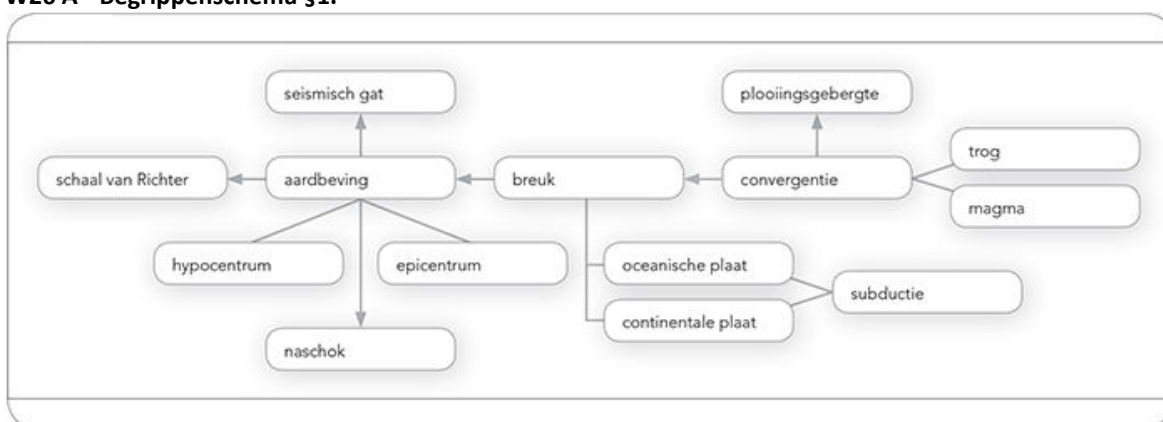
Kijkvragen

- 1 a hotspot **figuur 8 en figuur 10**
In figuur 8 is het principe van een hotspot te zien. Op de foto van figuur 10 zie je Robinson Crusoe-eiland, dat is gevormd door een hotspot.
- b Cs-klimaat **figuur 13 en bron 3**
Beide figuren laten wijngaarden zien die het in een Cs-klimaat goed doen.
- c imports substitutiebron **4**
Industrie op poten zetten begint meestal met het starten van importvervangende industrie.
- d inversie **figuur 20 en 21**
Vervuilde lucht kan vanwege een warmere luchtlaag niet weg en blijft hangen.

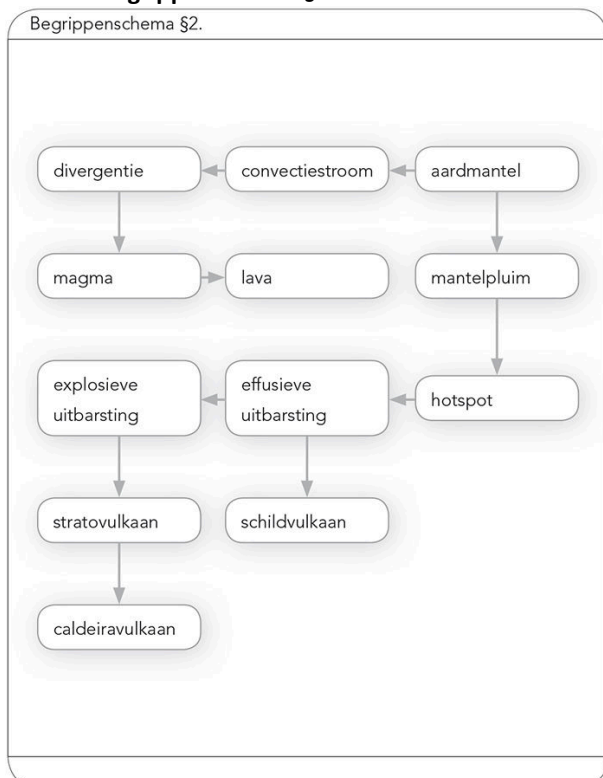
Begrippen

- 2 a/b/c/d/e Eigen antwoorden leerling, bijvoorbeeld:

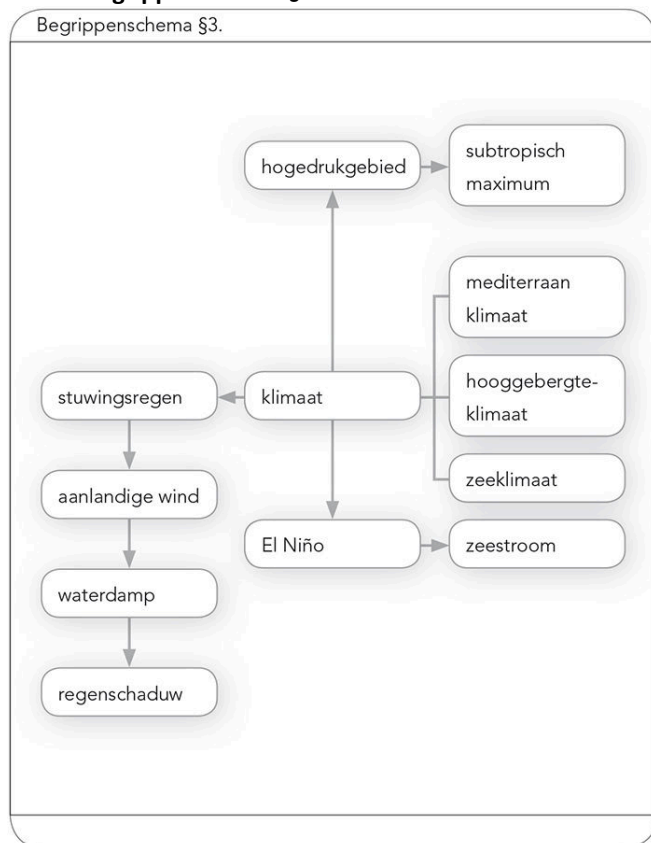
W26 A Begrippenschema §1.



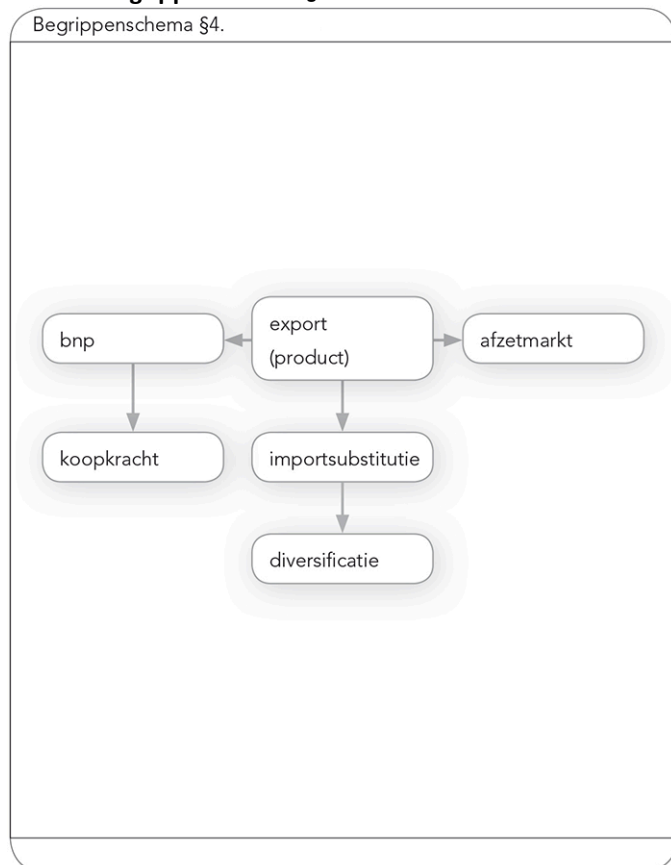
W26 B Begrippenschema §2.



W26 C Begrippenschema §3.



W26 D Begrippenschema §4.



W26 E Begrippenschema §5.